



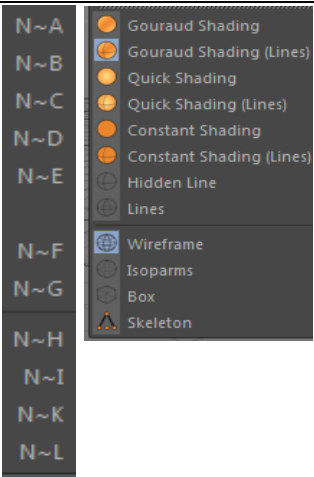


۱	~A کلید میانبر کدام گزینه است؟
	Gouraud shading (Lines)
	Lines
	start
	path systems
۲	~B کلید میانبر کدام گزینه است؟
	Lines Gouraud quick
	Hidden
	Line hidden
	Gouraud shading(Lines)
۳	~C , ~D به ترتیب کلید میانبر کدام گزینه هستند؟
	Quick Shading,Hidden Lines
	Lines,Box
	Quick Shadung,Quick Shading(Linedes)
	Wire Frame,Skeleton
۴	Quick shadin کلید میانبرش ---است؟
	N~C
	N~D
	N~R
	N~U
۵	~E کلید میانبر ---است؟
	Constant Shading
	QUICK SHADING
	GOURAUD SHADING
	SHADING LINE
۶	کلید میانبر Hidden Line ---است؟

	N~R	
	N~S	
	N~F	
	N~Y	
۷	کلید میانبر Alt+s,s مربوط به کدام گزینه است؟	
	Frame Liner Elements	
	lines Selected box	
	Frame Hidden Shading	
	Frame Selected Elements	
۸	کلید میانبر Alt+s,s مربوط به کدام گزینه است؟	
	D~G	
	N@T	
	N~G	
	N~&	
۹	کلید میانبر پنجره روبرو کدام گزینه است؟	
		
	F6	
	F4	
	F3	
	F1	
۱۰	کلید میانبر شکل روبرو کدام گزینه است؟	
		
	۴	
	۱	
	۳	
	۷	

۱۱	-برای اینکه بزرگنمایی را کوچک و یا بزرگ کنیم کدام کلید را بکار می بریم؟
	۱-کلید Page Up یا Page down از صفحه کلید را فشار می دهیم
	کلید INSERT را از صفحه کلید فشار می دهیم
	کلید * یا / را از صفحه کلید را فشار می دهیم
	کلید- یا + را از صفحه کلید فشار می دهیم
۱۲	-کلید میانبر گزینه روبرو کدام کلید از صفحه کلید است؟ 
	T
	H
	A
	E
۱۳	این گزینه کدام حالت را فعال می کند؟ 
	Scale Camera
	Switch Camera
	Move Camera
	Switch frame
۱۴	Shift+F1 مربوط به کدام گزینه است؟
	Object Delete viewer
	Object Manager
	Material Manager
	Attribute Manager
۱۵	Ctrl+[Alt+[به ترتیب مربوط به کدام گزینه است؟
	decrease brush , Object Manager
	decrease brush pressure*,rotate brush
	rotate brush , brush pressure
	Switch Camera , brush pressure
۱۶	Ctrl + Shift + A- کدام گزینه را فعال می کند؟
	rotate brush
	brush pressure
	Deselect All
	brush pressure

۱۷	با توجه به شکل کلید S متعلق به کدام گزینه است؟
	hide all other layers
	toggles visibility
	TOGGLELS VISIBILITY IN RENDERING
	TOGGLES VISIBILITY IN MANAGERS
۱۸	چطور بر روی یک مجموعه آبجکت گروه بندی ایجاد می کنید؟
	ابتدا گزینه ابتدا و یا انتها را با ماوس نگه داشته کلید TAB وگزینه آخر را با ماوس کلید می کنیم سپس راست کلید کرده و گزینه Group Object را انتخاب می کنیم
	ابتدا گزینه ابتدا و یا انتها را با ماوس نگه داشته کلید ALT وگزینه آخر را با ماوس کلید می کنیم سپس راست کلید کرده و گزینه Group Object را انتخاب می کنیم
	ابتدا گزینه ابتدا و یا انتها را با ماوس نگه داشته کلید CTRL وگزینه آخر را با ماوس کلید می کنیم سپس راست کلید کرده و گزینه Group Object را انتخاب می کنیم
	ابتدا گزینه ابتدا و یا انتها را با ماوس نگه داشته کلید Shift وگزینه آخر را با ماوس کلید می کنیم سپس راست کلید کرده و گزینه Group Object را انتخاب می کنیم
۱۹	در شکل مقابل ۷ مخفف کدام گزینه است؟
	1-HIDES ALL OTHER LAYERS
	2-TOGGLELS VISIBILITY IN RENDERING
	3-TOGGLES VISIBILITY
	4-TOGGLES VISIBILITY IN MANAGERS
۲۰	در شکل مقابل گزینه R مربوط به کدام گزینه است؟
	1-TOGGLELS VISIBILITY IN RENDERING
	2-HIDES ALL OTHER LAYERS
	3-TOGGLES VISIBILITY
	4-TOGGLES VISIBILITY IN MANAGERS
۲۱	در کدام گزینه مخفف کلمه زیر شکل مقابل است؟ TOGGLES VISIBILITY IN MANAGERS?
	1-S
	2-V
	3-M
	4-R
۲۲	کدام حرف مخفف گزینه مقابل است؟ LOCK TOGGLE-۱
	1-R
	2-L
	3-A
	4-M
۲۳	کدام گزینه مخفف جمله روبرو است؟ ENABLES/DISABLES ANIMATION-۱

	1-A	
	2-M	
	3-R	
	4-L	
۲۴	کدام یک از جمله های زیر مربوط به کلید G است؟	
	1-ENABLES/DISABLES GENERATORS*	
	2-ENABLES/DISABLES DEFORMERS	
	3-LOCK TOGGLE	
	4-TOGGLES VISIBILITY IN MANAGERS	
۲۵	کدام گزینه مربوط به کلید D است؟	
	1-TOGGLES VISIBILITY IN MANAGERS	
	2-LOCK TOGGLE	
	3-ENABLES/DISABLES ANIMATION	
	4-ENABLES/DISABLES DEFORMERS	
۲۶	کدام گزینه مربوط به دکمه E است؟	
	1-ENABLES/DISABLES DEFORMERS	
	2-ENABLES/DISABLES EXPRESION	
	3-ENABLES/DISABLES GENERATORS*	
	4-ENABLES/DISABLES ANIMATION	
۲۷	۱-SOLO مربوط به کدام گزینه است و کدام کار را انجام می دهد؟	
	1-HIDES ALL OTHER LAYERS	
	2-TOGGLELS VISIBILITY IN RENDERING	
	3-TOGGLES VISIBILITY IN MANAGERS	
	4-LOCK TOGGLE	
۲۸	ANIMATION مربوط به کدام کلید است؟	
		
	1-A	
	2-M	
	3-G	

